

Proves d'accés a la universitat per a més grans de 25 anys

Convocatòria 2015

Geografia


Sèrie 3

Fase específica


| Qualificació | | |
|------------------------|---|--|
| Primera part | | |
| | | |
| | | |
| Segona part | 1 | |
| | 2 | |
| | 3 | |
| | 4 | |
| Suma de notes parcials | | |
| Qualificació final | | |



Qualificació



Etiqueta identificadora de l'alumne/a



Aquesta prova consta de dues parts. En la primera part, responeu a TRES de les cinc qüestions proposades i, en la segona part, trieu UNA de les dues opcions (A o B) i responeu a les quatre qüestions de l'opció triada.

Esta prueba consta de dos partes. En la primera parte, responda a TRES de las cinco cuestiones propuestas y, en la segunda parte, escoja UNA de las dos opciones (A o B) y responda a las cuatro cuestiones de la opción escogida.

PART 1

Responneu a TRES de les cinc qüestions proposades.

[6 punts: 2 punts per qüestió]

PARTE 1

Responda a TRES de las cinco cuestiones propuestas.

[6 puntos: 2 puntos por cuestión]

1. Diguen a quines de les principals conques hidrogràfiques de Catalunya corresponen les lletres del mapa i esmenteu una comarca per la qual s'estén cadascuna d'aquestes conques hidrogràfiques.

1. Diga a cuáles de las principales cuencas hidrográficas de Catalunya corresponden las letras del mapa y mencione una comarca por la que se extiende cada una de estas cuencas hidrográficas.

A:

B:

C:

D:

2. a) Diguen què és el *consum de proximitat* o de *quilòmetre zero*.

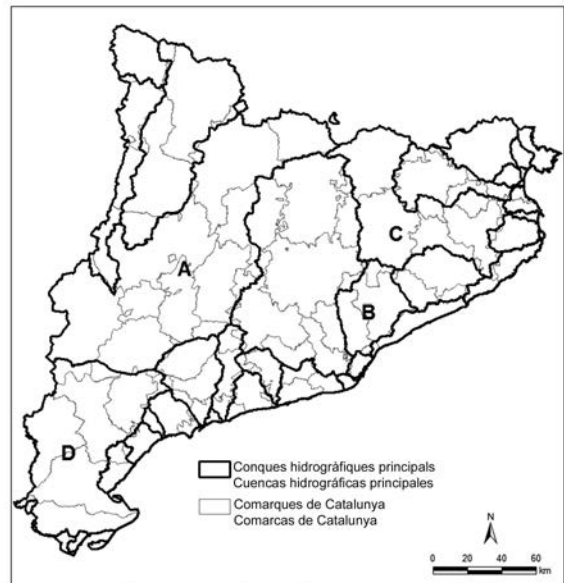
2. a) Diga qué es el *consumo de proximidad* o de *quilómetro cero*.

b) Esmenteu dos motius pels quals es considera que és un consum més just i sostenible.

b) Mencione dos motivos por los que se considera que es un consumo más justo y sostenible.

Mapa de les principals conques hidrogràfiques de Catalunya

Mapa de las principales cuencas hidrográficas de Catalunya



FONT: Elaboració pròpia a partir de les dades del Departament de Territori i Sostenibilitat de la Generalitat de Catalunya.

FUENTE: Elaboración propia a partir de los datos del Departamento de Territorio y Sostenibilidad de la Generalitat de Catalunya.

3. **a)** Digueu què és el *sector terciari*.

3. **a)** Diga qué es el *sector terciario*.

b) Esmenteu tres tipus d'activitats incloses en el sector terciari i digueu els dos tipus d'activitats d'aquest sector que predominen a Catalunya.

b) Mencione tres tipos de actividades incluidas en el sector terciario y diga los dos tipos de actividades de este sector que predominan en Catalunya.

4. **a)** Digueu l'any en què Espanya es va incorporar a la Unió Europea i amb quin altre país hi va entrar.

4. **a)** Diga en qué año se incorporó España a la Unión Europea y con qué otro país entró.

b) Esmenteu dos països europeus que no formin part de la Unió Europea.

b) Mencione dos países europeos que no formen parte de la Unión Europea.

5. **a)** Digueu la diferència principal entre un recurs natural renovable i un recurs natural no renovable.
5. **a)** Diga la principal diferencia entre un recurso natural renovable y un recurso natural no renovable.

- b)** Poseu dos exemples de cadascun d'aquests tipus de recursos.
- b)** Ponga dos ejemplos de cada uno de estos tipos de recursos.

PART 2

Trieu UNA de les dues opcions (A o B) i responeu a les quatre qüestions de l'opció triada.

[4 punts: 1 punt per qüestió]

PARTE 2

Escoja UNA de las dos opciones (A o B) y responda a las cuatro cuestiones de la opción escogida.

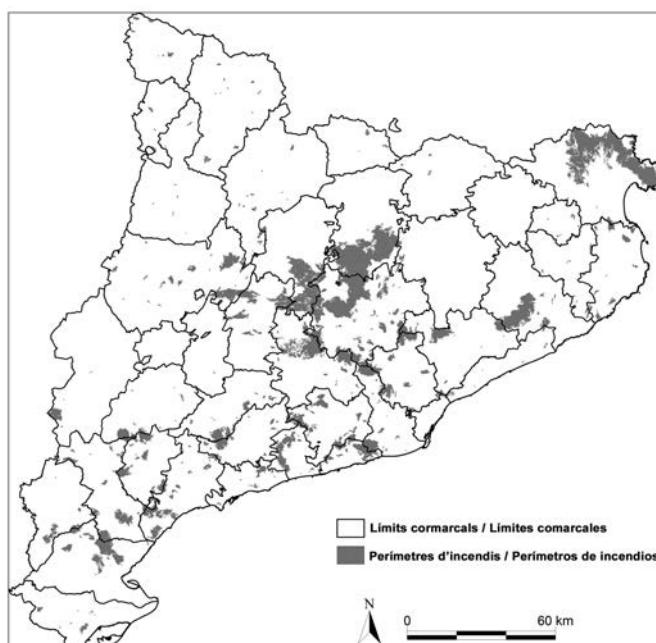
[4 puntos: 1 punto por cuestión]

OPCIÓ A

Observeu atentament el mapa i responeu a les qüestions que es plantegen a continuació.

Observe atentamente el mapa y responda a las cuestiones que se plantean a continuación.

Perímetres d'incendis a Catalunya durant el període 1986-2012
Perímetros de incendios en Catalunya durante el periodo 1986-2012



FONT: Elaboració pròpia a partir de les dades de la Generalitat de Catalunya.

FUENTE: Elaboración propia a partir de los datos de la Generalitat de Catalunya.

1. Esmenteu dues conclusions que es poden extreure a partir de la distribució dels incendis forestals a Catalunya, representada en el mapa.
1. Mencione dos características que pueden extraerse a partir de la distribución de los incendios forestales en Catalunya, representada en el mapa.

a)

b)

2. Esmenteu dues característiques del territori que fan que Catalunya sigui una zona propensa als incendis forestals.
2. Mencione dos características del territorio que hacen que Catalunya sea una zona propensa a los incendios forestales.

a)

b)

3. Esmenteu dues de les causes principals dels incendis forestals.
3. Mencione dos de las principales causas de los incendios forestales.

a)

b)

4. *a)* Esmenteu una diferència entre els riscos naturals i els riscos antròpics.
4. *a)* Mencione una diferencia entre los riesgos naturales y los riesgos antrópicos.

b) Poseu dos exemples de riscos naturals i dos exemples de riscos antròpics.

b) Ponga dos ejemplos de riesgos naturales y dos ejemplos de riesgos antrópicos.

OPCIÓ B

Observeu atentament la fotografia i responeu a les qüestions que es plantegen a continuació.

Observe atentamente la fotografía y responda a las cuestiones que se plantean a continuación.



1. **a)** Esmenteu a quin lloc de Catalunya podria correspondre aquesta fotografia.

1. **a)** Mencione a qué lugar de Catalunya podría corresponder esta fotografía.

b) Justifiqueu la resposta.

b) Justifique su respuesta.

2. **a)** Digueu si el conreu que s'observa en la fotografia és de secà o de regadiu i esmenteu un altre conreu del mateix tipus.

2. **a)** Diga si el cultivo que se observa en la fotografía es de secano o de regadío y mencione otro cultivo del mismo tipo.

b) Esmenteu dues característiques del tipus de conreu que s'observa en la fotografia.

b) Mencione dos características del tipo de cultivo que se observa en la fotografía.

3. **a)** Esmenteu dos paisatges agraris d'Espanya.

3. **a)** Mencione dos paisajes agrarios de España.

b) Digueu una característica de cadascun d'aquests dos paisatges.

b) Diga una característica de cada uno de estos dos paisajes.


4. **a)** En què consisteix el paisatge agrari anomenat *bocage*?

4. **a)** ¿En qué consiste el paisaje agrario denominado *bocage*?


b) I l'anomenat *openfield*?

b) ¿Y el denominado *openfield*?

Etiqueta identificadora de l'alumne/a



Etiqueta del corrector/a



Institut
d'Estudis
Catalans