


Activitat 1

Les qualificacions de trigonometria obtingudes per un grup de 18 estudiants són:

9	10	8	7	9	6	9	7	5
9	3	5	7	8	3	10	3	9

Dibuixa un polígon de freqüències acumulades i un diagrama de sectors circular on constin les freqüències relatives en percentatges.





Activitat 2

La Montse demana a 40 persones quants gots d'aigua van beure ahir i obté aquests resultats:

7	2	3	3	2	5	4	8	0	0
7	2	4	6	3	3	2	1	3	5
4	6	6	7	3	8	4	5	3	6
1	5	5	2	0	3	0	2	1	4

- A. Construeix una taula de freqüències, agrupant les dades en classes de tres valors de la variable.
- B. A partir de la informació de la taula, dibuixa un pictograma i un histograma amb les marques de classe.



Activitat 3

La Sara ha observat el color dels ulls de 45 estudiants de secundària i ha fet aquesta taula de freqüències:

Color d'ulls	Estudiants (n_i)
Marró	20
Verd	6
Blau	10
Negre	9

Amb aquestes dades, dibuixa un diagrama de sectors semicircular on constin les freqüències absolutes.

