



# Proves d'Accés a la Universitat per a més grans de 25 anys

Convocatòria 2013

## Geografia

Sèrie 2

### Fase específica

Opció: Arts i humanitats

Opció: Ciències socials i jurídiques



**UAB**

Universitat Autònoma de Barcelona



Universitat de Lleida



UNIVERSITAT ROVIRA I VIRGILI



**UOC**

Universitat Oberta de Catalunya

www.uoc.edu

**UVIC**




Suma de notes parcials


	1	
	2	
	3	
Opció A/B	1	
	2	
	3	
	4	
Total		



Qualificació



Etiqueta identificadora de l'alumne/a



Aquesta prova consta de dues parts. En la primera part, responeu a TRES de les cinc qüestions proposades i, en la segona part, trieu UNA de les dues opcions (A o B), de la qual heu de respondre a les qüestions corresponents.

Esta prueba consta de dos partes. En la primera parte, responda a TRES de las cinco cuestiones propuestas y, en la segunda parte, escoja UNA de las dos opciones (A o B), de la que debe responder a las cuestiones correspondientes.

**PART 1**

**Trieu TRES de les cinc qüestions proposades.**

[6 punts: 2 punts per qüestió]

**PARTE 1**

**Escoja TRES de las cinco cuestiones propuestas.**

[6 puntos: 2 puntos por cuestión]

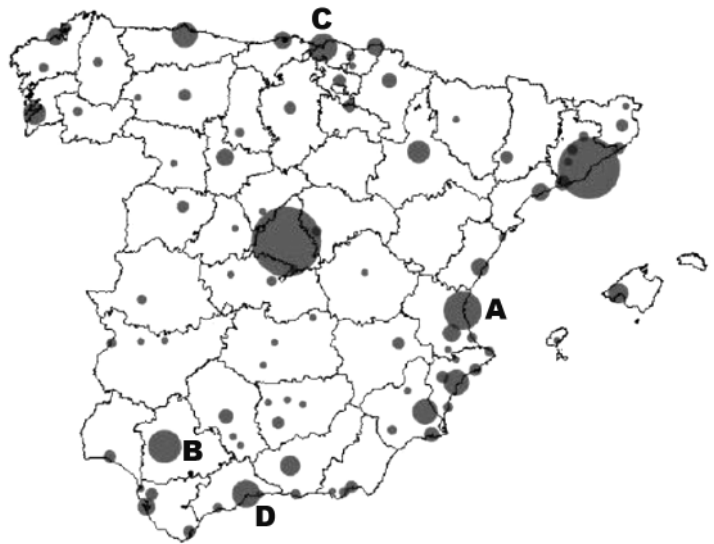
1. Diguen a quines àrees metropolitanas corresponen les lletres del mapa.
1. Diga a qué áreas metropolitanas corresponden las letras del mapa.

A:

B:

C:

D:



2. Esmenteu (*a* i *b*) dos trets característics del relleu peninsular espanyol i expliqueu-los molt breument.
2. Mencione (*a* y *b*) dos rasgos característicos del relieve peninsular español y explíquelos muy brevemente.

*a)*

*b)*

3. Expliqueu com eren en el règim demogràfic antic o fase demogràfica tradicional: *a)* la natalitat i *b)* la mortalitat.

3. Explique cómo eran en el régimen demográfico antiguo o fase demográfica tradicional: *a)* la natalidad y *b)* la mortalidad.

*a)*

*b)*

4. Expliqueu: *a)* què és un *minifundi* i *b)* quins problemes planteja aquest tipus d'exploració.

4. Explique: *a)* qué es un *minifundio* y *b)* qué problemas plantea este tipo de explotación.

*a)*

*b)*

---

5. Digueu: *a)* què és la *funció urbana turística i d'oci* i *b)* poseu dos exemples de ciutats espanyoles (excloses Madrid i Barcelona) on sigui particularment rellevant.
5. Diga *a)* qué es la *función urbana turística y de ocio* y *b)* mencione dos ejemplos de ciudades españolas (excluidas Madrid y Barcelona) donde sea particularmente relevante.

*a)*

*b)*

## **PART 2**

**Trieu UNA de les dues opcions (A o B), de la qual heu de respondre a les qüestions corresponents.**

[4 punts: 1 punt per qüestió]

## **PARTE 2**

**Escoja UNA de las dos opciones (A o B), de la que debe responder a las cuestiones correspondientes.**

[4 puntos: 1 punto por cuestión]

## **OPCIÓ A**

Observeu atentament la imatge i responeu a les QUATRE qüestions següents.

Observe atentamente la imagen y responda a las siguientes CUATRO cuestiones.



1. Digueu: *a)* quin nom tenen les instal·lacions que apareixen en la imatge i *b)* per a què serveixen.

1. Diga: *a)* qué nombre tienen las instalaciones que aparecen en la imagen y *b)* para qué sirven.

*a)*

*b)*

2. Digueu: *a)* a quina regió espanyola podria correspondre aquesta imatge i *b)* justifiqueu la resposta.

2. Diga: *a)* a qué región española podría corresponder esta imagen y *b)* justifique su respuesta.

*a)*

*b)*

3. Esmenteu (*a* i *b*) dos avantatges respecte d'altres formes de producció d'energia convencionals.

3. Mencione (*a* y *b*) dos ventajas respecto a otras formas de producción de energía convencionales.

*a)*

*b)*

4. Esmenteu (*a* i *b*) dos problemes lligats a aquest tipus d'instal·lacions.

4. Mencione (*a* y *b*) dos problemas ligados a este tipo de instalaciones.

*a*)

*b*)

### OPCIÓ B

Observeu atentament la imatge i responeu a les QUATRE qüestions següents.

Observe atentamente la imagen y responda a las siguientes CUATRO cuestiones.



1. Digueu: *a*) com s'anomena aquest tipus d'imatge i *b*) esmenteu alguna de les informacions més rellevants que proporciona.


1. Diga: *a*) cómo se denomina este tipo de imagen y *b*) mencione alguna de las informaciones más relevantes que proporciona.

*a*)

*b*)

2. Digueu: *a)* quins són els espais «buits» que apareixen en la imatge i *b)* expliqueu-ne les causes.
2. Diga: *a)* cuáles son los espacios «vacíos» que aparecen en la imagen y *b)* explique sus causas.
- a)*
- b)*
3. Digueu: *a)* quins són els espais «plens» que apareixen en la imatge i *b)* expliqueu-ne les causes.
3. Diga: *a)* cuáles son los espacios «llenos» que aparecen en la imagen y *b)* explique sus causas.
- a)*
- b)*
4. Digueu: *a)* quins són els grans eixos d'ocupació contínua del territori i *b)* expliqueu-ne les causes.
4. Diga: *a)* cuáles son los grandes ejes de ocupación continua del territorio y *b)* explique sus causas.
- a)*
- b)*

Etiqueta identificadora de l'alumne/a



Etiqueta del corrector/a

