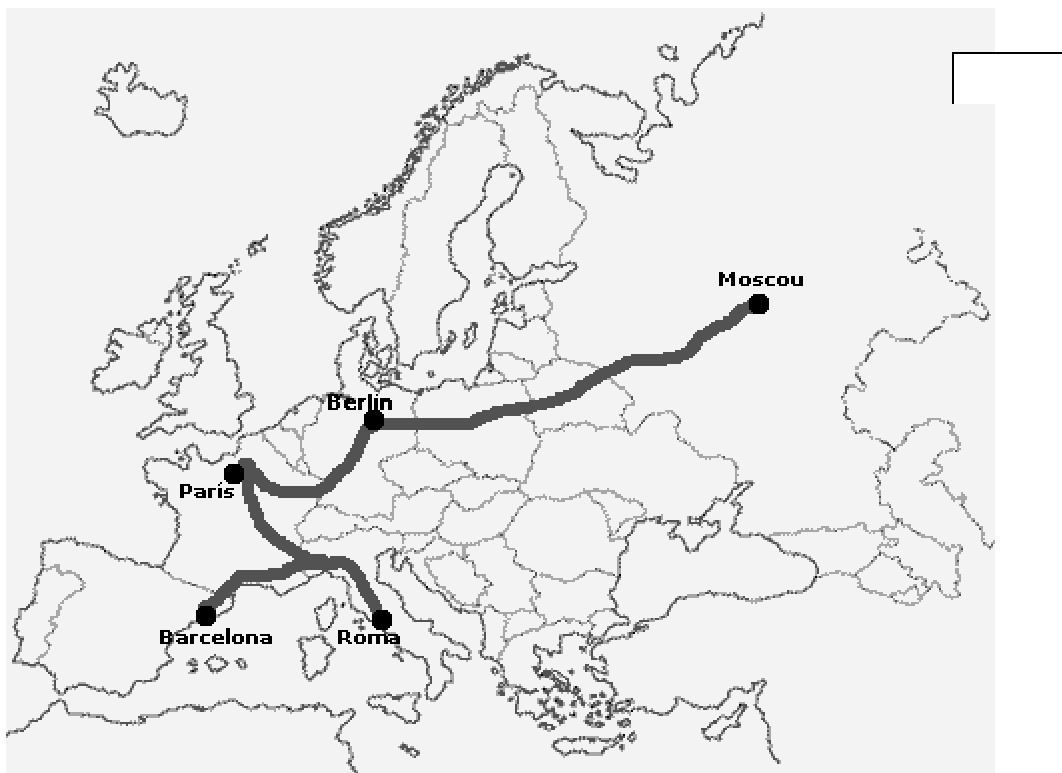




Cognoms i nom:	Data:
	Núm. DNI/NIE:

ÀMBIT SOCIAL

1. Imagineu-vos que empreneu un viatge per Europa. La ruta marcada que seguireu és la que trobeu al mapa inferior. En primer lloc, us caldrà saber quins són aquests països pels quals viatjareu. Situeu el nom d'aquests 7 països al mapa. (5 punts)



2. Per travessar els països heu de tenir en compte les diferents normatives per a entrar-hi. Digueu, com a ciutadans de la Unió Europea, per quins dels països que abans heu marcat al mapa no us farà falta un permís especial del govern per a entrar-hi, ja que hi teniu garantida la lliure circulació. (3 punts)



3. Barcelona i Roma, es troben en una zona climàtica i paisatgística molt concreta. Digueu de quina zona es tracta i quines són les principals característiques del seu clima i del seu paisatge. (2 punts)


4. La primera ciutat que visitareu és Roma. Roma fou la capital d'un imperi molt important. En quina etapa històrica s'emmarca l'Imperi Romà? Quina fou la principal aportació d'aquest imperi a l'actual cultura catalana? (2 punts)

5. Roma és una ciutat coneguda sobretot per les seves obres d'art. Creieu que és el mateix l'art romà que l'art romànic? Justifiqueu la vostra resposta. (2 punts)


6. Itàlia, el país del qual és capital Roma, tingué com a president del seu govern entre 1922 i 1945 a Benito Mussolini. Quina ideologia professava? Explica breument aquesta ideologia (3 punts)



7. La segona etapa del vostre viatge us conduirà des de Roma a París. Per tant, us dirigiu cap a una zona de clima més fred i humit. A l'hora de confeccionar l'equipatge heu tingut en compte les previsions del temps. Segons el següent mapa meteorològic, quina és la previsió del temps que farà a París? (3 punts)



8. En la vostra estada a París trobareu moltes referències històriques sobre la Revolució Francesa. A l'església del Sant Suplici trobareu la tomba de Montesquieu. Els fulletons informatius us indicaran que Montesquieu fou un filòsof precursor del liberalisme polític, que elaborà la teoria de la separació de poders. L'articulació actual dels estats democràtics segueix aquesta teoria de la separació de poders. En què consisteix? (2 punts)







9. Durant la vostra estada a París fareu una breu visita als camps de Verdún, escenari de la Primera Guerra Mundial. Contra quin altre país veí va lluitar França a la Primera Guerra Mundial? Qui va guanyar aquesta guerra? (2 punts)


10. La frontera entre França i Alemanya la travessareu per Estrasburg. Quina institució europea té la seva seu en aquesta ciutat? Per sobre de quin important riu europeu passareu per creuar la frontera franco-alemanya? (2 punts)

11. En el camí que us portarà de París a Berlín, passareu per la ciutat de Trèveris. Aquesta és la ciutat natal de Karl Marx, un filòsof del segle XIX que desenvolupà una doctrina política molt important a l'època contemporània. Descriviu breument quina doctrina política és i en què consisteix. (3 punts)






12. Berlin és la capital d'Alemanya. Aquest país fou governat entre 1933 i 1945 per Adolf Hitler. Com s'anomenava el seu règim? I com s'anomena la terrible guerra provocada per Hitler? (4 punts)



13. A Berlin també visitareu les restes de l'anomenat Mur de Berlin. Aquest mur dividia la ciutat en dues parts, però també dividia el món en dos blocs. Quins eren aquests blocs i quin país liderava cadascun d'ells? En quin segle succeí això? (5 punts)

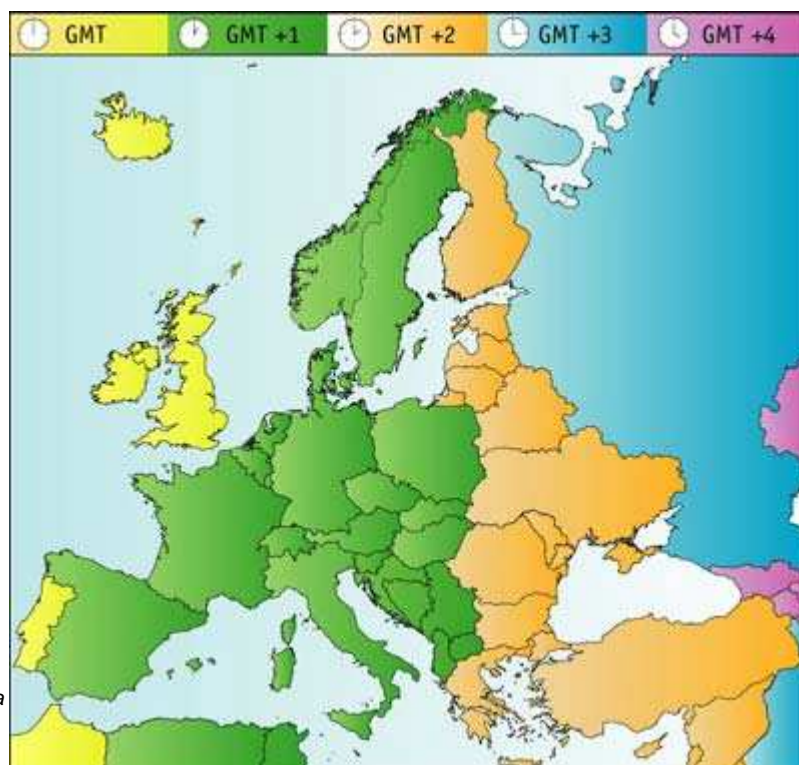





14. En el vostre camí de Berlín a Moscou fareu una parada per visitar el camp d'extermini d'Auschwitz, a Polònia. A través d'aquests camps, on moriren més de sis milions de persones, Hitler provà de dur a terme l'extermini de tot un poble. De quin poble es tracta? I, per quin motiu?(2 punts)




15. Un cop sigueu a Moscou, no seguireu el mateix fus horari que el de Barcelona. Si voleu trucar a la família a les deu del vespre hora de Barcelona, a quina hora ho haureu de fer des de Moscou. Ajudeu-vos del següent mapa: (3 punts)


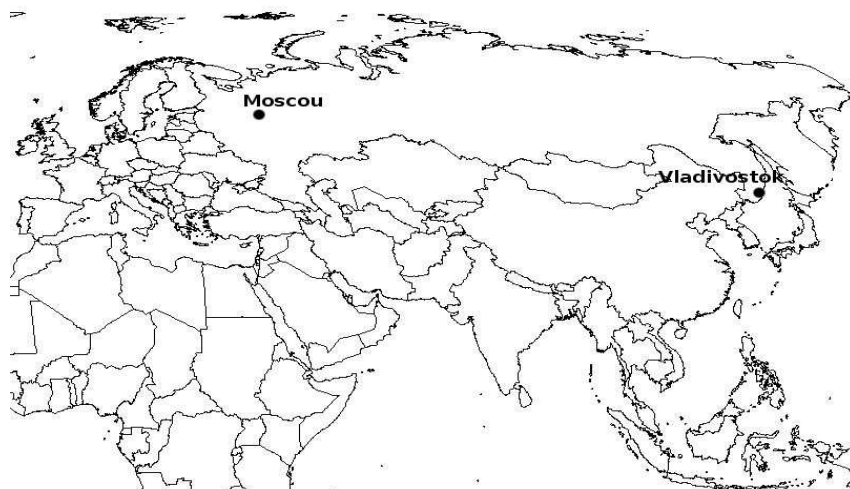




16. Segurament haureu sentit a parlar que Moscou té un clima continental. En què influeix la situació geogràfica de Moscou en el fet de ser de clima continental? Quines són les principals característiques d'aquest tipus de clima? (2 punts)





17. Una de les principals atraccions turístiques de Rússia és la ruta del transsiberià. Es tracta d'un tren que recorre el país des de Moscou fins a Vladivostok. Són un total de 9288 quilòmetres i uns 9 dies de viatge. Vladivostok, tot i ser molt allunyat de Moscou i formar part de Rússia, és a la costa d'un oceà molt allunyat d'Europa. De quin oceà es tracta? (2 punts)





18. A Moscou visitareu la Plaça Roja i fareu cua per entrar a veure el cos momificat de Lenin. Qui és aquest personatge i per què va ser important en la història de Rússia i de tot el segle XX? (4 punts)



19. Al llarg de tot el viatge, molta gent us farà preguntes sobre el nostre país. Com explicaríeu l'estructura política i legal de l'estat espanyol i la inserció de Catalunya dins d'aquesta estructura? (4 punts)





20. També molta gent us preguntarà diverses coses sobre Catalunya, la seva geografia i la seva història. Responen les següents preguntes: (5 punts)

a) En quina etapa històrica es va formar culturalment i políticament Catalunya com a nació?

b) En quina guerra (nom i data) va perdre Catalunya les seves institucions i va ser absorbida per la monarquia espanyola?

c) La meitat de la població catalana té com a llengua materna el castellà. Quin fet històric i demogràfic del segle XX ho explica?

d) Amb quines comunitats autònomes i estats fa frontera Catalunya?

e) Quina és la serralada més important de Catalunya?

