

Competència social i ciutadana

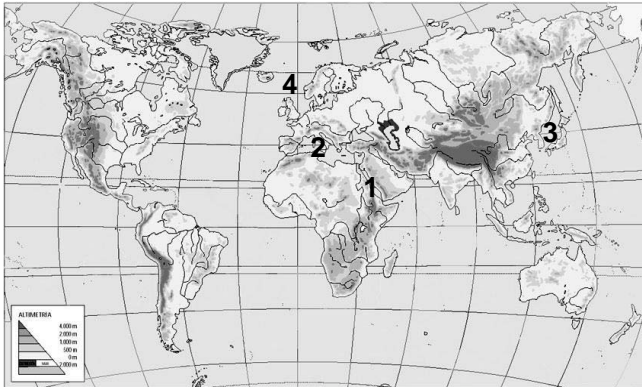
Sèrie 2

INSTRUCCIONS

- **Trieu i resoleu VUIT dels deu exercicis proposats.**
- **Indiqueu clarament quins exercicis heu triat. Si no ho feu així, s'entendrà que heu escollit els vuit primers.**
- **Cada exercici val 1,25 punts.**

1. Observeu el planisferi físic i relacioneu els números que hi apareixen amb els noms dels mars proposats al costat. Escriviu el número corresponent dins les caselles.

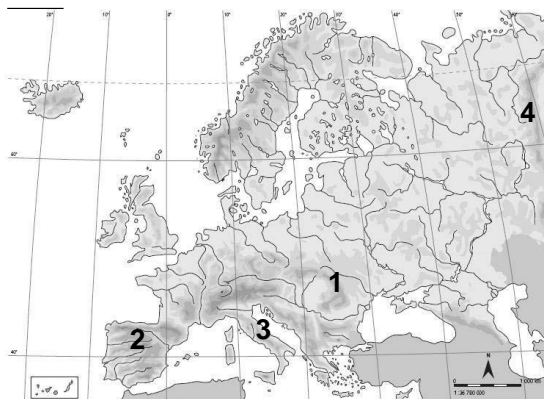
(1,25 punts per 4 respostes correctes; 0,94 per 3 respostes correctes; 0,63 per 2 respostes correctes i 0,32 per 1 resposta correcta)



- Mar Mediterrani
- Mar Roig
- Mar del Nord
- Mar del Japó

2. Observeu el mapa físic d'Europa i relacioneu els números que hi apareixen amb els noms dels sistemes muntanyosos proposats al costat. Escriviu el número corresponent dins les caselles.

(1,25 punts per 4 respostes correctes; 0,94 per 3 respostes correctes; 0,63 per 2 respostes correctes i 0,32 per 1 resposta correcta)



- Apenins
- Sistema Central
- Càrpats
- Serralada dels Urals

3. Observeu el mapa polític d'Espanya i relacioneu els números que hi apareixen amb els noms de les províncies proposats al costat. Escriviu el número corresponent dins les caselles.

(1,25 punts per 4 respostes correctes; 0,94 per 3 respostes correctes; 0,63 per 2 respostes correctes i 0,32 per 1 resposta correcta)



- Lleó
- Castelló
- Sòria
- Toledo

4. Observeu el mapa polític de Catalunya i relacioneu els números que hi apareixen amb els noms de les comarques proposats al costat. Escriviu el número corresponent dins les caselles.

(1,25 punts per 4 respostes correctes; 0,94 per 3 respostes correctes; 0,63 per 2 respostes correctes i 0,32 per 1 resposta correcta)

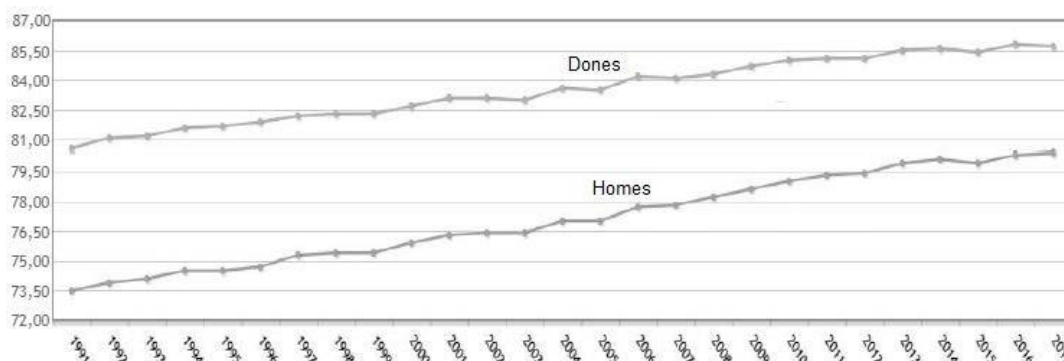


- Cerdanya
- Tarragonès
- Maresme
- Solsonès

5. Estudieu la informació del gràfic de línies següent, referent a l'evolució de l'esperança de vida a Espanya, i indiqueu si les frases de sota són vertaderes (V) o falses (F). Escriviu la lletra V o F dins les caselles.

(1,25 punts per 4 respostes correctes; 0,94 per 3 respostes correctes; 0,63 per 2 respostes correctes i 0,32 per 1 resposta correcta)

Evolució de l'esperança de vida a Espanya per sexes (1991-2017)



- Les dones tenen una esperança de vida superior als homes.
- En les últimes dècades només ha augmentat l'esperança de vida dels homes.
- L'any 2017 l'esperança de vida de les dones espanyoles era de 75 anys.
- L'esperança de vida dels homes espanyols l'any 2005 era de 85 anys.

6. Indiqueu si les frases següents, referents al medi ambient, són vertaderes (V) o falses (F). Escriviu la lletra V o F dins les caselles.

(1,25 punts per 4 respostes correctes; 0,94 per 3 respostes correctes; 0,63 per 2 respostes correctes i 0,32 per 1 resposta correcta)

- Un residu biodegradable es reintegra completament al medi ambient.
- Els recursos naturals són limitats, per això la seva extracció s'ha de moderar fins a assolir un equilibri.
- La pluja àcida és positiva per als boscos.
- Els impactes ambientals més greus sobre la vegetació són la desforestació, l'erosió i els incendis.

7. Relacioneu els conceptes polítics següents amb les definicions de sota. Escriviu la lletra corresponent (A, B, C o D) dins les caselles.

(1,25 punts per 4 respostes correctes; 0,94 per 3 respostes correctes; 0,63 per 2 respostes correctes i 0,32 per 1 resposta correcta)

A) Liberalisme B) Absolutisme monàrquic C) Despotisme il·lustrat D) Parlamentarisme

- Règim polític en el qual el parlament, elegit democràticament, és l'eix de la vida política i la principal font de poder.
- Règim polític que es caracteritza perquè el monarca concentra tots els poders en la seva persona i perquè la seva autoritat prové directament de Déu.
- Corrent de pensament que pretenia fer compatible el principi d'autoritat de l'absolutisme amb la idea de progrés, racionalització i modernitat.
- Corrent ideològic i doctrina política i econòmica que és la base dels sistemes polítics creats per les revolucions burgeses del segle XIX.

8. Relacioneu les imatges amb el personatge històric adient. Escriviu la lletra corresponent (A, B, C o D) dins les caselles.

(1,25 punts per 4 respostes correctes; 0,94 per 3 respostes correctes; 0,63 per 2 respostes correctes i 0,32 per 1 resposta correcta)



A



B



C



D

- Niceto Alcalá Zamora Francisco Franco Alfonso XIII Miguel Primo de Rivera

9. Relacioneu cada concepte amb el període històric en el qual s'ubica. Escriviu la lletra corresponent (A, B, C o D) dins les caselles.

(1,25 punts per 4 respostes correctes; 0,94 per 3 respostes correctes; 0,63 per 2 respostes correctes i 0,32 per 1 resposta correcta)

- A) S'estableix el vot femení per primera vegada a Espanya.
- B) S'aprova la Constitució de 1978.
- C) S'aprova el Decret de Col·lectivitzacions.
- D) S'impulsa "el Desarrollismo".

- Guerra Civil Transició Franquisme Segona República

10. Indiqueu si les frases següents, referents a la globalització econòmica, són vertaderes (V) o falses (F). Escriviu la lletra V o F dins les caselles.

(1,25 punts per 4 respostes correctes; 0,94 per 3 respostes correctes; 0,63 per 2 respostes correctes i 0,32 per 1 resposta correcta)

- Una conseqüència de la globalització de l'economia és que els estats perden el control d'una part de les decisions econòmiques.
- Arran de la globalització econòmica, en les darreres dècades s'han reduït els intercanvis mundials de primeres matèries, productes i capitals.
- La globalització econòmica s'ha vist impulsada per l'aplicació de les noves tecnologies de la comunicació.
- La globalització econòmica ha generat benestar i progrés per a tots els països i persones.