



**Proves d'accés a cicles formatius de grau mitjà de formació professional inicial,
d'ensenyaments d'arts plàstiques i disseny, i d'ensenyaments esportius 2019**

Competència social i ciutadana

Sèrie 1

1. Observeu el planisferi polític i relacioneu els números que hi apareixen amb els noms dels països proposats al costat. Escriviu el número corresponent dins les caselles.

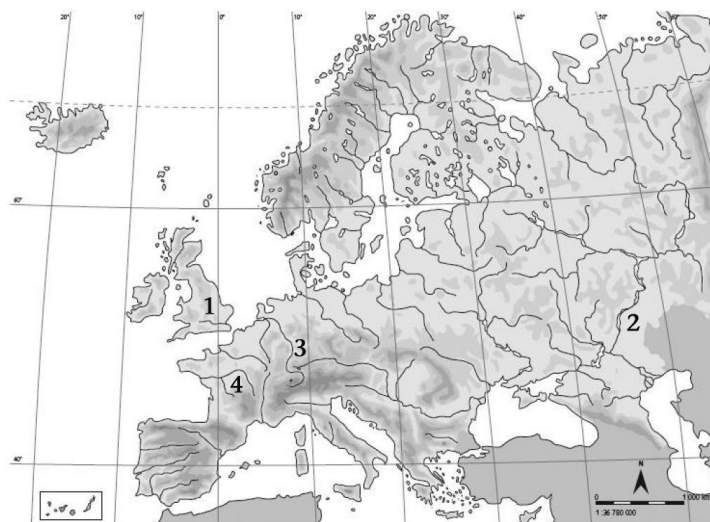
[1 punt: 0,25 punts per cada relació]



- Índia
- Canadà
- Algèria
- Argentina

2. Observeu el mapa físic d'Europa i relacioneu els números que hi apareixen amb els noms dels rius proposats al costat. Escriviu el número corresponent dins les caselles.

[1 punt: 0,25 punts per cada relació]



- Tàmesi
- Loira
- Volga
- Rin

3. Observeu el mapa polític d'Espanya i relacioneu els números que hi apareixen amb els noms de les províncies proposats al costat. Escriviu el número corresponent dins les caselles.

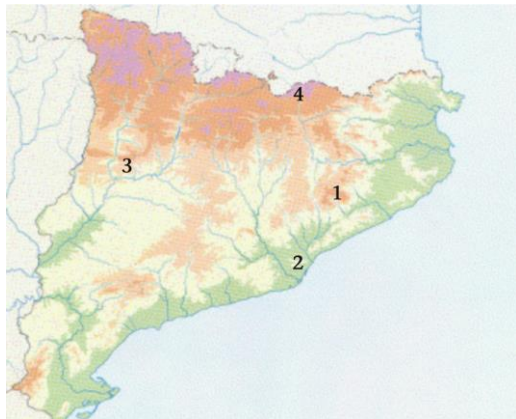
[1 punt: 0,25 punts per cada relació]



- Alacant
- Lugo
- Àvila
- Sevilla

4. Observeu el mapa físic de Catalunya i relacioneu els números que hi apareixen amb els noms dels pics, massissos i serres proposats al costat. Escriviu el número corresponent dins les caselles.

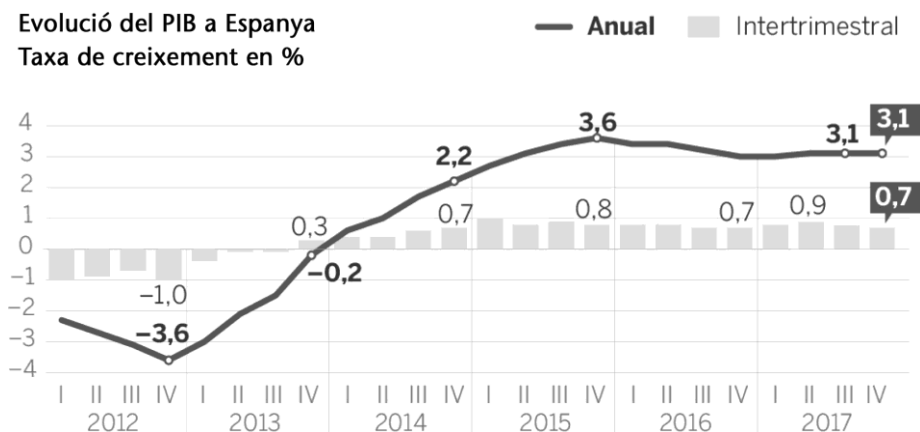
[1 punt: 0,25 punts per cada relació]



- Puigmal
- Tibidabo
- Montsec
- Montseny

5. Estudieu la informació del gràfic següent, referent al PIB espanyol. Completeu les frases següents marcant amb una creu l'expressió apropiada.

[1 punt: 0,25 punts per cada cas]



- PIB vol dir paritat individual borsària. / producte interior brut. / preus intertrimestrals borsaris. / preus d'interès bàsic.
- El pitjor dels darrers sis anys de la crisi econòmica ha estat el 2012. / 2013. / 2014. / 2015.
- Quin sector econòmic té més pes en el PIB espanyol? L'agricultura. / La indústria de l'automòbil. / El turisme. / La indústria tèxtil.
- Des de 2012 fins a 2015 (ambdós anys inclosos) Espanya ha crescut econòmicament més d'un 7%. / entre un 1% i un 3%. / entre un 0% i un 1%. / entre un 3% i un 7%.

6. Ordeneu de més antic (1) a més modern (4) els diferents esdeveniments històrics de l'edat contemporània. Escriviu el número corresponent (1, 2, 3 o 4) dins les caselles.

[1 punt: 0,25 punts per cada relació]

- Revolució Francesa
- Revolució Russa
- Segona Guerra Mundial
- Guerra Civil espanyola

7. Completeu les frases següents, referides a la Revolució Industrial, marcant amb una creu l'expressió apropiada.

[1 punt: 0,25 punts per cada cas]


- S'inicià a Espanya. / França. / la Gran Bretanya. / Alemanya.
- La major part de la població passà a treballar al sector agrícola. / industrial. / turístic. / de serveis.
- Els primers canvis precursors de la Revolució Industrial van ser al segle xv. / xviii. / xix. / xx.
- L'inventor de la primera màquina de vapor va ser Thomas A. Edison. / Albert Einstein. / James Watt. / Isaac Newton.

8. Relacioneu les imatges amb el nom del president de la Generalitat adient. Escriviu la lletra corresponent (A, B, C o D) dins les caselles que hi ha al costat de cada nom.

[1 punt: 0,25 punts per cada relació]



A



B



C



D

- Josep Tarradellas Jordi Pujol Francesc Macià Lluís Companys

9. Relacioneu els conceptes amb els termes que els designen. Escriviu la lletra corresponent (A, B, C o D) dins les caselles.

[1 punt: 0,25 punts per cada relació]

- A) Territori d'un país que gaudeix d'avantatges fiscals.
- B) Impost que cobra l'Estat sobre les mercaderies i els productes exportats i importats.
- C) L'augment de la interdependència econòmica, política, cultural... entre els països del món.
- D) Trasllat de la part productiva de certes empreses cap a països menys desenvolupats.

- Globalització Zona franca Deslocalització Aranzel

10. Relacioneu els líders polítics de la transició amb el partit respectiu. Escriviu la lletra corresponent (A, B, C o D) dins les caselles.

[1 punt: 0,25 punts per cada relació]

- A) Adolfo Suárez B) Santiago Carrillo C) Manuel Fraga D) Felipe González

- PSOE UCD
 PCE AP



Institut
d'Estudis
Catalans