



**Proves d'accés a cicles formatius de grau mitjà de formació professional inicial,
d'ensenyaments d'arts plàstiques i disseny, i d'ensenyaments esportius 2016**

Competència social i ciutadana

Sèrie 2

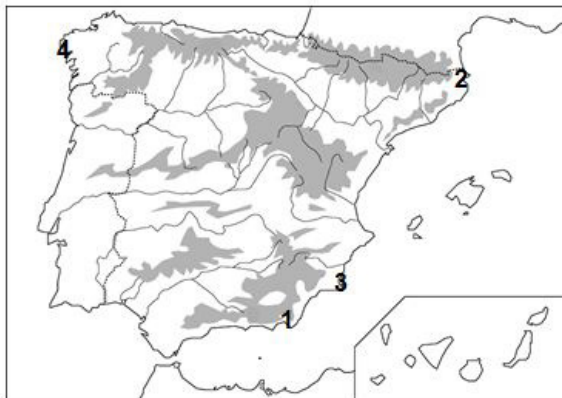
**SOLUCIONS,
CRITERIS DE CORRECCIÓ
I PUNTUACIÓ**

1. Observeu el mapa polític d'Europa i relacioneu els números que hi apareixen amb els noms de capitals europees proposats al costat. Escriviu el número corresponent dins les caselles.
[1 punt: 0,25 punts per cada apartat]



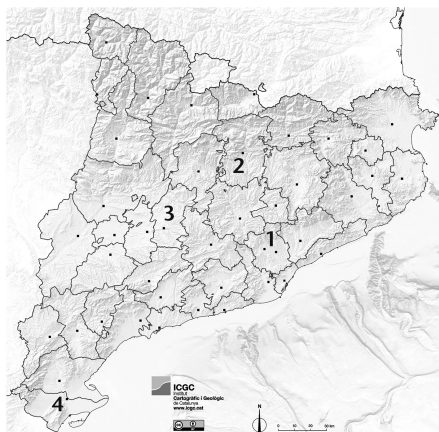
- 3 París
- 4 Kíev
- 2 Viena
- 1 Minsk

2. Observeu el mapa físic de la península Ibèrica i relacioneu els números que hi apareixen amb els noms de caps proposats al costat. Escriviu el número corresponent dins les caselles.
[1 punt: 0,25 punts per cada apartat]



- 1 cap de Gata
- 4 cap de Finisterre
- 3 cap de Palos
- 2 cap de Creus

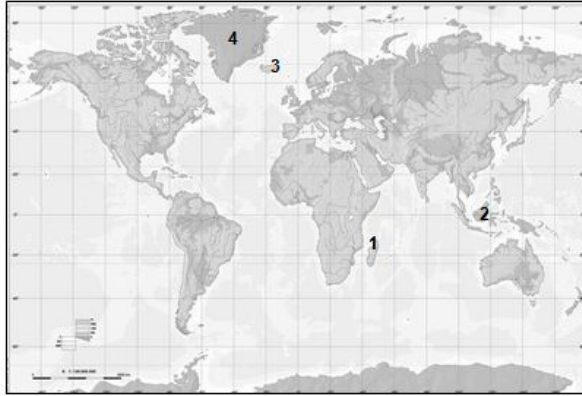
3. Observeu el mapa polític de Catalunya i relacioneu els números que hi apareixen amb els noms de comarques proposats al costat. Escriviu el número corresponent dins les caselles.
[1 punt: 0,25 punts per cada apartat]



- 2 Berguedà
- 1 Vallès Occidental
- 4 Montsià
- 3 Segarra

4. Observeu el planisferi físic i relacioneu els números que hi apareixen amb els noms d'illes proposats al costat. Escriviu el número corresponent dins les caselles.

[1 punt: 0,25 punts per cada apartat]



- 1 Madagascar
- 2 Borneo
- 4 Grenlàndia
- 3 Islàndia

5. Observeu el gràfic lineal i indiqueu si les frases proposades al costat referents a l'anàlisi del gràfic són vertaderes (V) o falses (F). Escriviu la lletra V o F dins les caselles.

[1 punt: 0,25 punts per cada apartat]



- V La població activa agrària espanyola va disminuir entre els anys 1976 i 2007.
- V La corba mostra una tendència a la desacceleració a partir de l'última dècada del segle xx.
- F A Espanya l'any 1976 treballaven al camp 20.900 persones.
- F L'any 2007 el 5 % de la població espanyola vivia al camp.

6. Relacioneu les iniciatives següents, destinades a reduir l'impacte mediambiental provocat per les activitats humanes, amb l'objectiu fonamental que tenen. Escriviu la lletra corresponent (A, B, C o D) dins les caselles.

[1 punt: 0,25 punts per cada apartat]


- A) RRR B) Agenda 21 C) Protocol de Kyoto D) Greenpeace

- B Programa per a promoure el desenvolupament sostenible.
- A Gestió de residus.
- C Tractat per a la disminució d'emissions de CO₂.
- D Organització per a la protecció i la defensa del medi ambient.

7. Relacioneu les imatges amb la fase de la revolució industrial adient. Escriviu la lletra corresponent (A o B) dins les caselles de sota les imatges.

[1 punt: 0,25 punts per cada imatge]

A) Primera revolució industrial B) Segona revolució industrial



A

B

B

A

8. Ordeneu de més antiga (1) a més recent (4) les diferents fases d'una crisi de sobreproducció típica del sistema capitalista. Escriviu el número corresponent (1, 2, 3 o 4) dins les caselles.

[1 punt: 0,25 punts per cada apartat]

- 2 Tancament d'empreses.
- 1 Saturació del mercat.
- 3 Augment de l'atur i disminució del consum.
- 4 Increment de la saturació del mercat.

9. Relacioneu cada esdeveniment històric amb un dels dos conflictes bèl·lics següents. Escriviu la lletra corresponent (A o B) dins les caselles.

[1 punt: 0,25 punts per cada apartat]

A) Primera Guerra Mundial B) Segona Guerra Mundial

- B Procés de Nuremberg.
- B Creació de l'Organització de les Nacions Unides.
- A Tractat de Versalles.
- B Conferències de Jalta i Potsdam.

10. Indiqueu si les frases següents, referents a indicadors socioeconòmics i demogràfics d'Espanya, són vertaderes (V) o falses (F). Escriviu la lletra V o F dins les caselles.

[1 punt: 0,25 punts per cada apartat]

- F La població espanyola supera els cinquanta milions d'habitants.
- F L'esperança de vida a Espanya és inferior a la mitjana europea.
- V La taxa d'atur a Espanya és superior a la mitjana europea.
- V La inversió en R+D a Espanya és inferior a la mitjana europea.



Institut
d'Estudis
Catalans